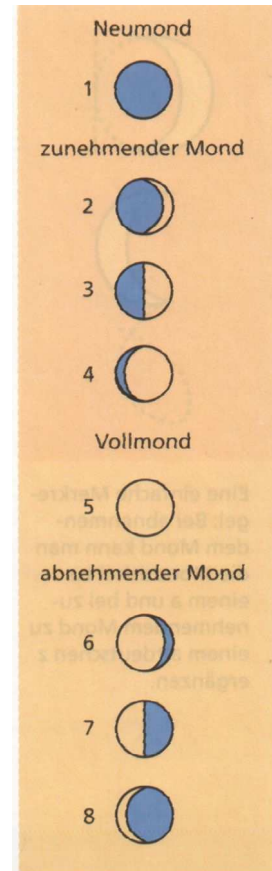
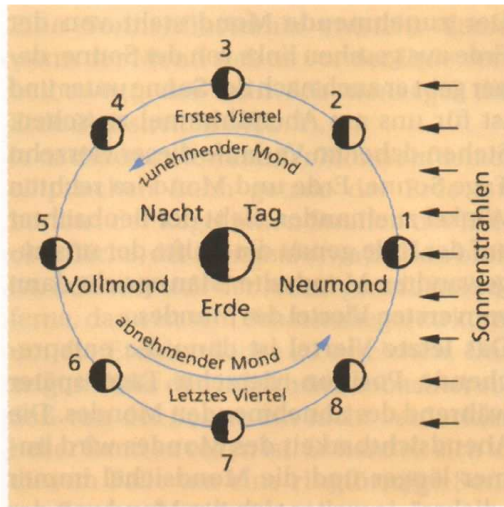



Mondphasen¹



Der *Neumond* steht am _____ Er wird von der Sonne überstrahlt und ist deshalb nicht sichtbar.
 Die *erste* Hälfte des Mondes (zunehmender Mond) sieht man in der *ersten* Hälfte der Nacht (_____).

Den *Vollmond* sieht man die _____ Nacht.
 Die *zweite* Hälfte des Mondes (abnehmender Mond) sieht man in der *zweiten* Hälfte der Nacht (_____).



Eine einfache Merkmalsregel: Bei abnehmendem Mond kann man die Mondsichel zu einem a und bei zunehmendem Mond zu einem altdeutschen z ergänzen.

¹ Entnommen aus: Herrmann, D.B.: Astronomie Sekundarstufe I, paetec-Verlag Berlin 1994